

BRACKELER SCHACHLEHRGANG

5. Teil: Damendiplom

Dieses Übungsheft gehört:



Empfohlen von der



ÜBUNGSPLAN



Übungen

Datum Prüfer

Bauerndurchbruch

entfernter Freibauer

gedeckter Freibauer

Pattfalle

Verfolgung

ungleichfarbige Läufer

offene Linien

Blockade

Matt mit L & S

Matt mit L & S (Praxis)

Materialbegrenzung

K,L gegen K,2B

K,T gegen K,B

Bährsche Regel

Sizilianisch

Schmunzelschach

45 Studien

45x Taktik

Praxis DWZ über 1400


Damendiplom am _____ mit ____ von 100 möglichen
Punkten bestanden.

© christian.goldschmidt@gmx.de, www.schachfreunde-brackel.de

BAUERNDURCHBRUCH



Merkmale für einen Bauerndurchbruch sind Raumvorteil, Mehrheiten oder Hebel. Löse die folgenden Beispiele und achte auf die Merkmale.




Weiß am Zug gewinnt

1. _____

2. _____

3. _____



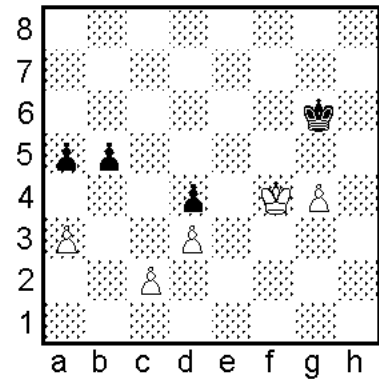
Weiß am Zug gewinnt

1. _____

2. _____

3. _____

4. _____



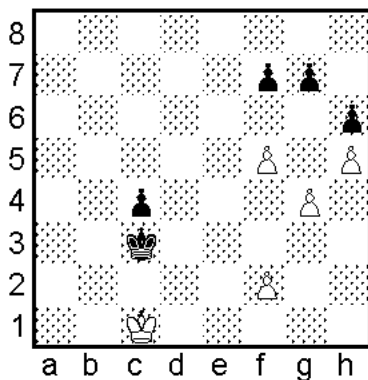
Schwarz am Zug gewinnt

1. ... _____

2. _____

3. _____

4. _____



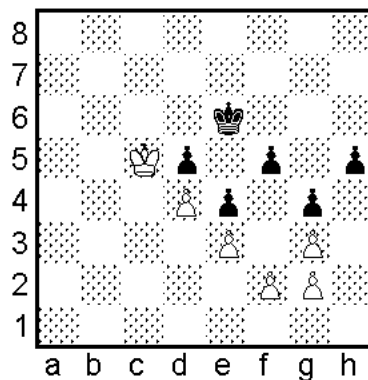
Weiß am Zug gewinnt

1. _____

2. _____

3. _____

4. _____



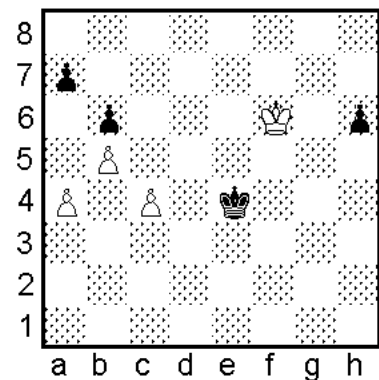
Schwarz am Zug gewinnt

1. ... _____

2. _____

3. _____

4. _____



Weiß am Zug gewinnt

1. _____

2. _____

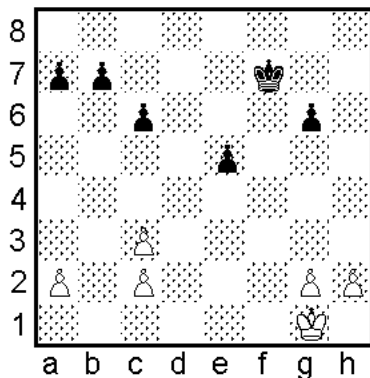
3. _____

4. _____

ENTFERNTER FREIBAUER



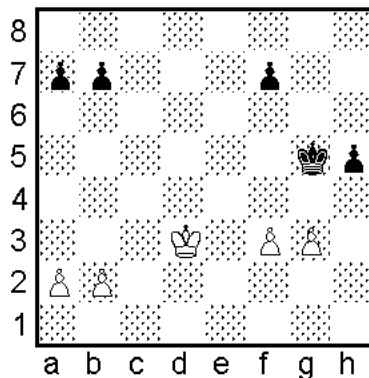
Der entfernte Freibauer ist ein Vorteilsmerkmal im Endspiel. Die folgenden Beispiele zeigen wie ein entfernter Freibauer eingesetzt wird.



Weiß am Zug

Beurteile die Stellung

Formuliere einen Plan



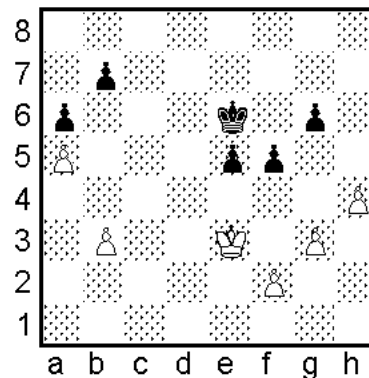
Schwarz am Zug gewinnt

1. ... _____

2. _____

3. _____

4. _____




Weiß am Zug gewinnt

1. _____

2. _____

3. _____

4. _____




Weiß am Zug gewinnt

1. _____

2. _____

3. _____

4. _____



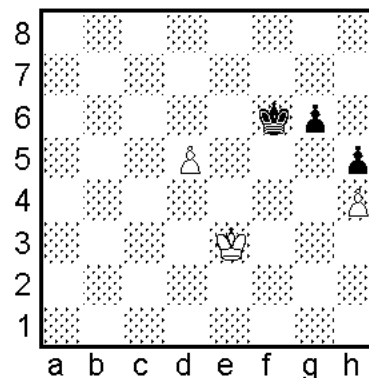
Weiß am Zug gewinnt

1. _____

2. _____

3. _____

4. _____



Weiß am Zug gewinnt

1. _____

2. _____

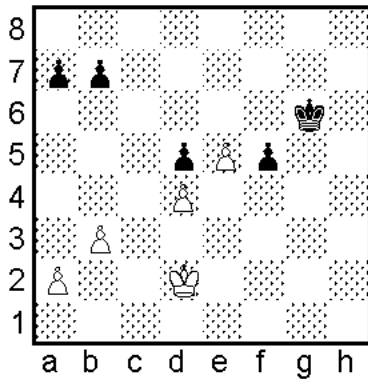
3. _____

4. _____

GEDECKTER FREIBAUER



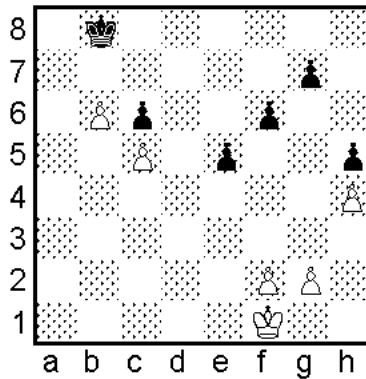
Meist noch stärker als der entfernte ist der gedeckte Freibauer, weil er den gegnerischen König bindet.



Weiß am Zug

Beurteile die Stellung

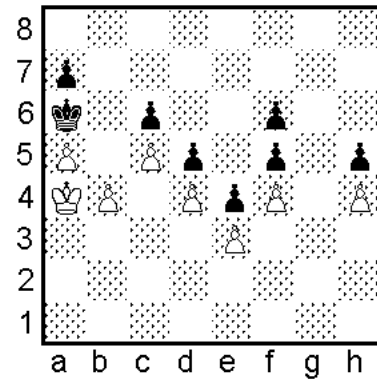
Formuliere einen Plan



Weiß am Zug gewinnt

Formuliere einen Plan.

Zeige eine Variante



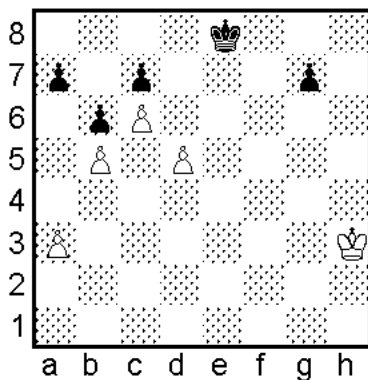
Weiß am Zug gewinnt

1. _____

2. _____

3. _____

4. _____



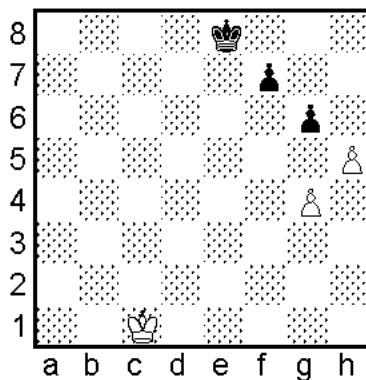
Weiß am Zug gewinnt

1. _____

2. _____

3. _____

4. _____



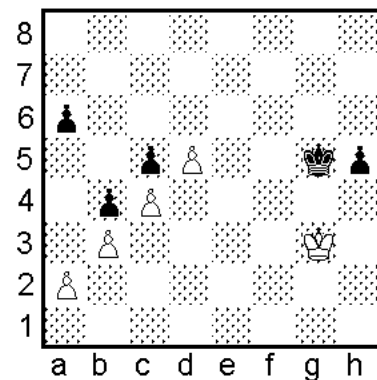
Weiß am Zug gewinnt

1. _____

2. _____

3. _____

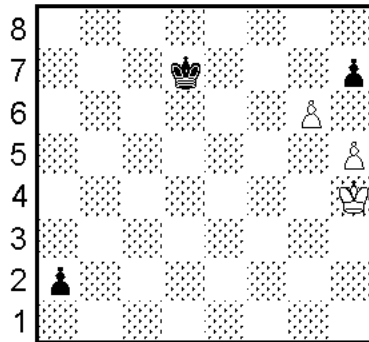
4. _____



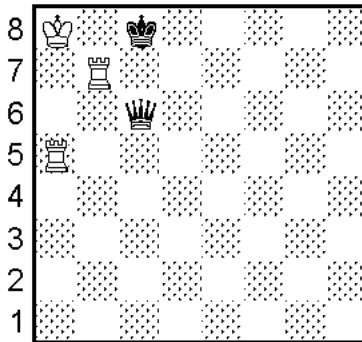
Schwarz am Zug hält Remis?!

Trotz eines gedeckten Freibauern wie aus dem Bilderbuch gewinnt Weiß nicht. Wo ist der Trick?

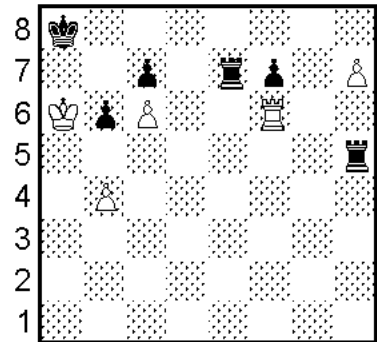
PATTFALLE




a b c d e f g h
Weiß am Zug hält
Remis



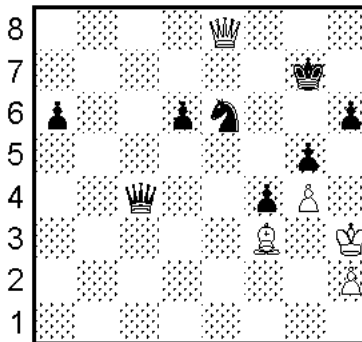
a b c d e f g h
Weiß am Zug hält
Remis



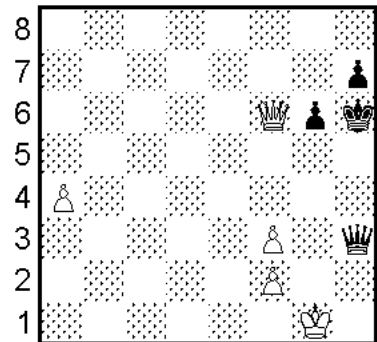
a b c d e f g h
Weiß am Zug hält
Remis



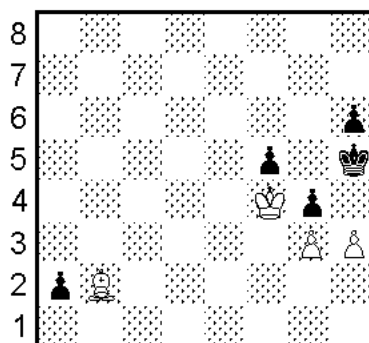
a b c d e f g h
Weiß am Zug hält
Remis



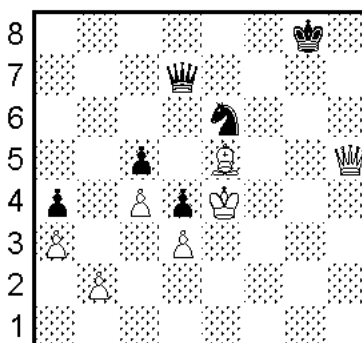
a b c d e f g h
Weiß am Zug hält
Remis



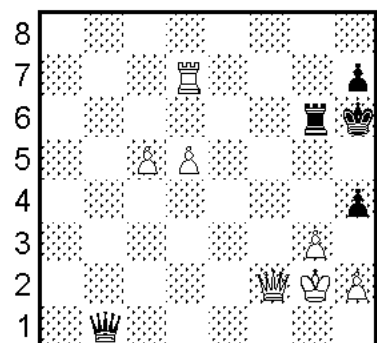
a b c d e f g h
Schwarz am Zug hält
Remis



a b c d e f g h
Schwarz am Zug hält
Remis

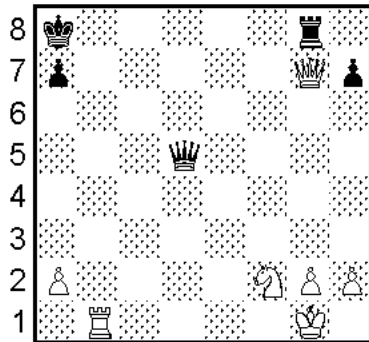


a b c d e f g h
Schwarz am Zug hält
Remis




a b c d e f g h
Schwarz am Zug hält
Remis

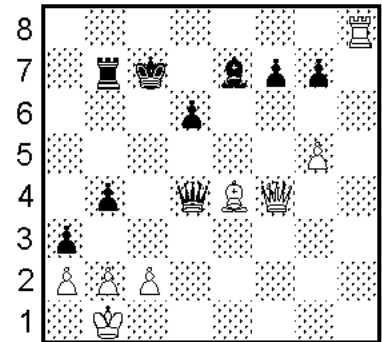
VERFOLGUNG



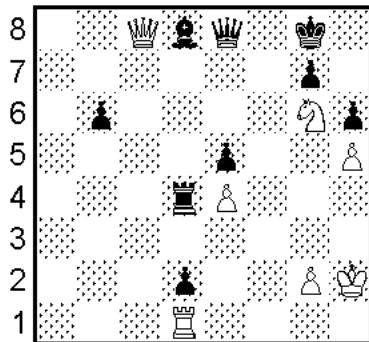
a b c d e f g h
Weiß am Zug



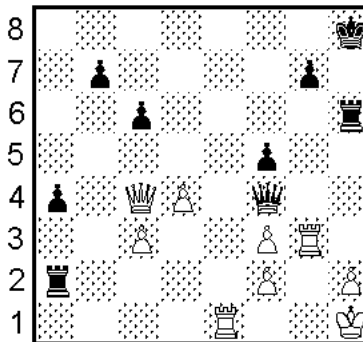
a b c d e f g h
Weiß am Zug




a b c d e f g h
Weiß am Zug




a b c d e f g h
Weiß am Zug




a b c d e f g h
Schwarz am Zug




a b c d e f g h
Weiß am Zug



a b c d e f g h
Weiß am Zug



a b c d e f g h
Schwarz am Zug



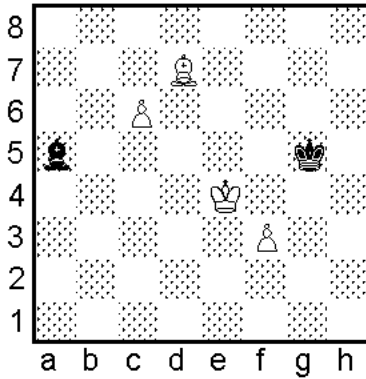
a b c d e f g h

1. g7 exd3
2. g8D+ Lg5+
3. Dxe8 dxc2
4. ??? Viel Vergnügen!

UNGLEICHFARBIGE LÄUFER

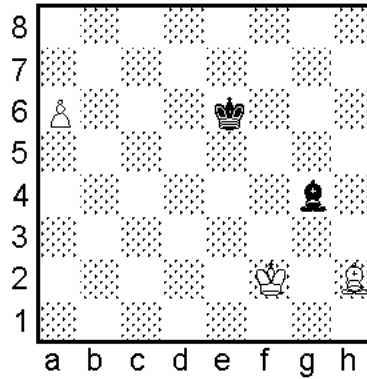


Endspiele mit ungleichfarbigen Läufern enden oft Remis, auch wenn eine Partei Mehrbauern besitzt. Der Verteidiger errichtet auf der Farbe, die der Gegner nicht kontrollieren kann, eine Festung.



Schwarz am Zug

Remis oder nicht?



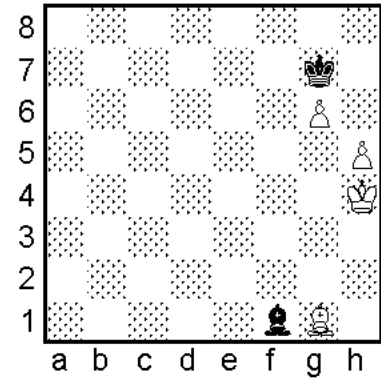
Schwarz am Zug hält Remis

1. ... _____

2. _____

3. _____

4. _____




Schwarz am Zug hält Remis

1. ... _____

2. _____

3. _____

4. _____



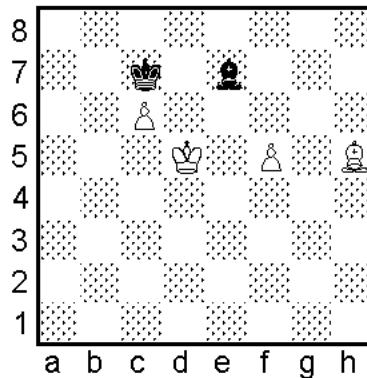
Weiß am Zug hält Remis

1. _____

2. _____

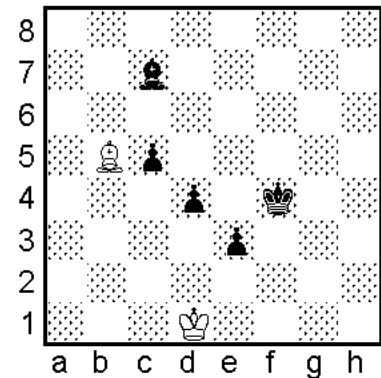
3. _____

4. _____



Weiß am Zug

Remis oder nicht?



Weiß am Zug

Remis oder nicht?

OFFENE LINIEN



In den folgenden Übungen hat der Angreifer die Kontrolle über wichtige offene Linien und nutzt das aus.

Wei am Zug gewinnt

Wei am Zug gewinnt

Wei am Zug gewinnt

Wei am Zug gewinnt

Wei am Zug gewinnt

Wei am Zug gewinnt

Wei am Zug gewinnt

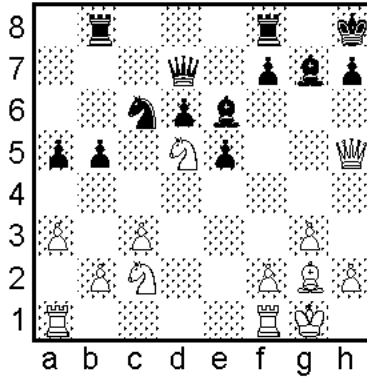
Schwarz am Zug gewinnt

Schwarz am Zug gewinnt


BLOCKADE



Bei der Blockade wird dem Gegner ein wichtiges Feld versperrt oder eine gegnerische Figur blockiert.

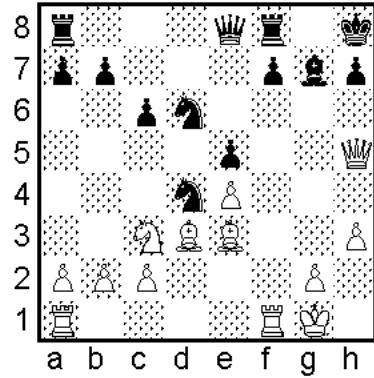


1. _____



1. _____

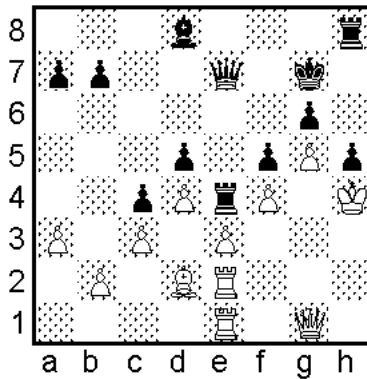
2. _____



1. _____

2. _____


3. _____



1. _____

2. _____

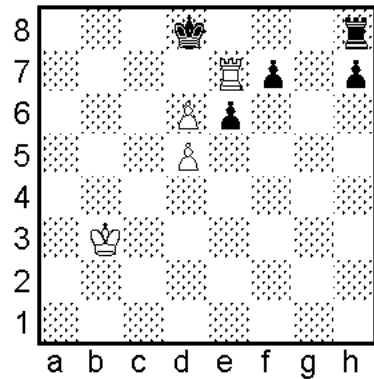
3. _____



1. _____

2. _____

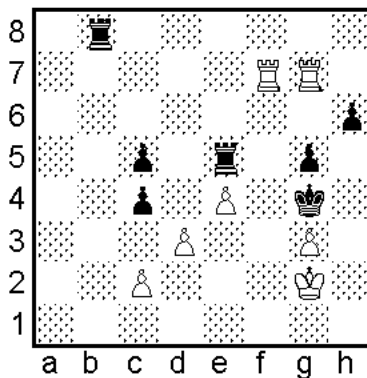
3. _____



1. _____

2. _____

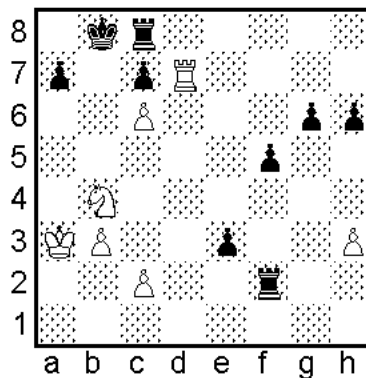
3. _____



1. _____

2. _____

3. _____

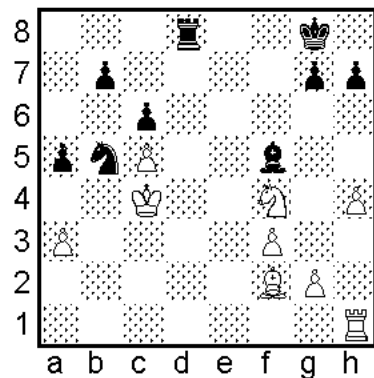


1. _____

2. _____

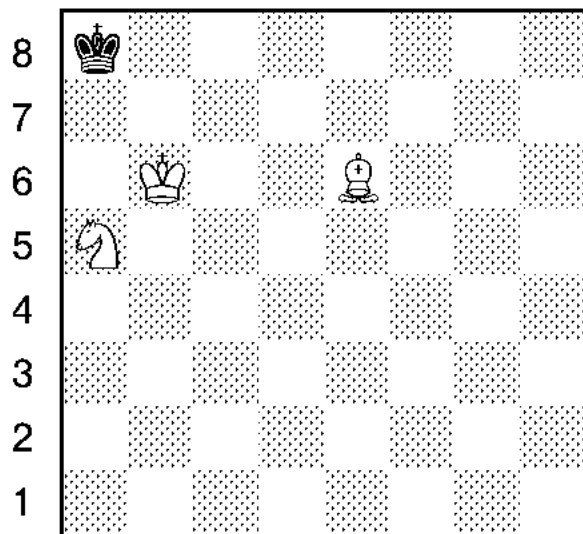
3. _____

4. _____




1. _____

MATT MIT LÄUFER UND SPRINGER



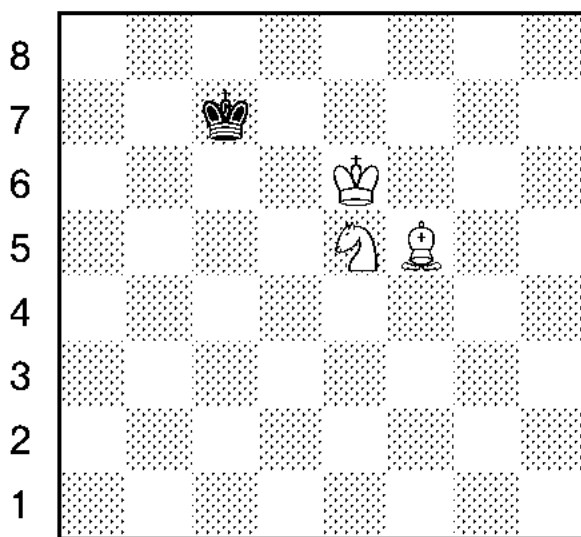
a b c d e f g h

Mit Läufer und Springer kann man den gegnerischen König nur in der Ecke mattsetzen, die der Läufer kontrolliert. Wieviele Züge dauert es im obigen Diagramm bis zum Matt?



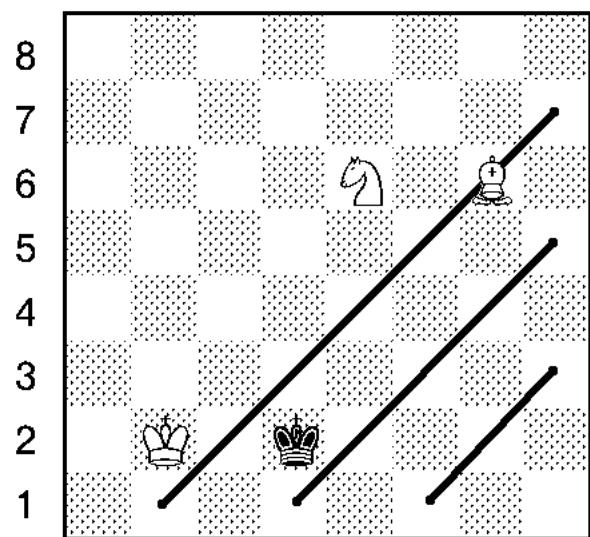
a b c d e f g h

Steht der König in der falschen Ecke muß er in eine andere getrieben werden. Übe das W-Manöver.



a b c d e f g h

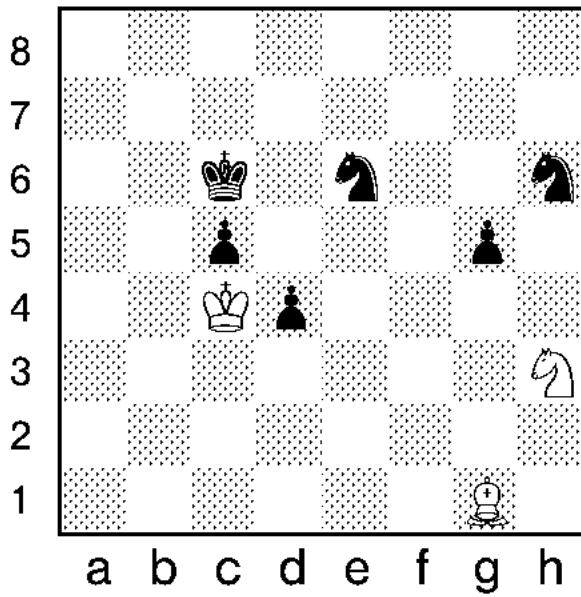
Der kritische Moment beim W-Manöver. Der schwarze König droht zu entweichen. Was sollte Weiß ziehen?




a b c d e f g h

Eine andere Möglichkeit ist das Dreiecksmanöver. Das obige Diagramm zeigt das große Dreieck. Durch Übergang zum mittleren und dann zum kleinen Dreieck wird der König in der Ecke h1 mattgesetzt. Übe auch diese Variante.

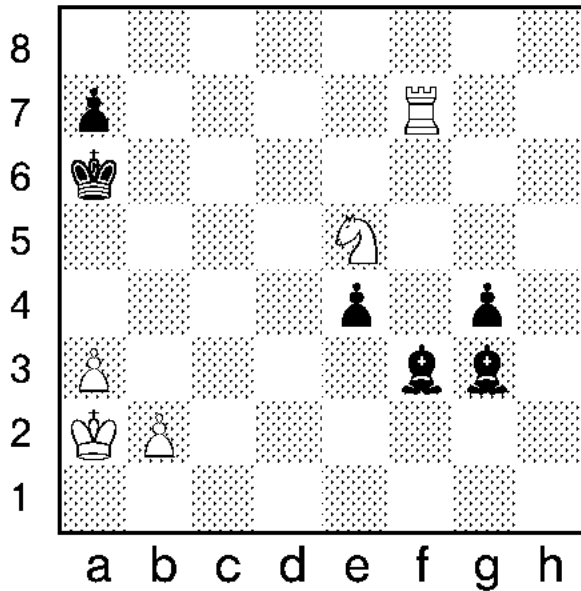
MATERIALBEGRENZUNG




Weiß ist am Zug.
Was würdest du ziehen?



Weiß am Zug hält Remis.




Weiß am Zug hält Remis.

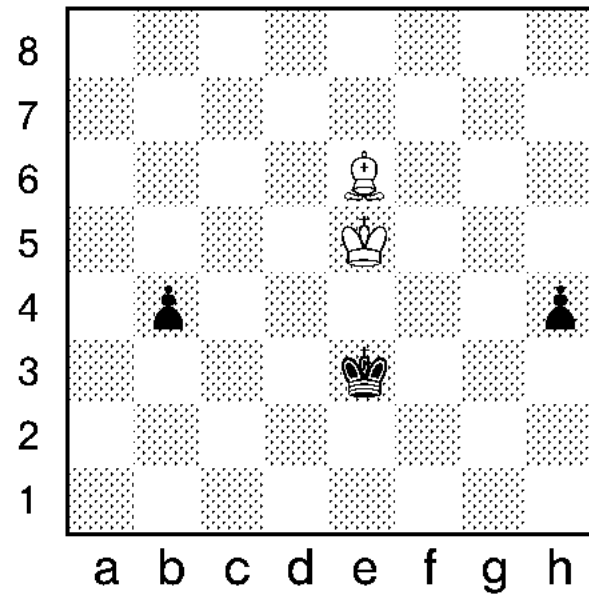


Weiß am Zug hält Remis.

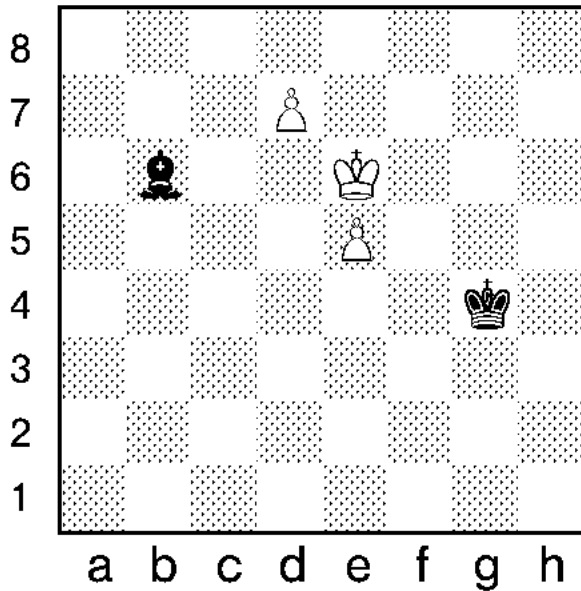
LÄUFER GEGEN 2 BAUERN



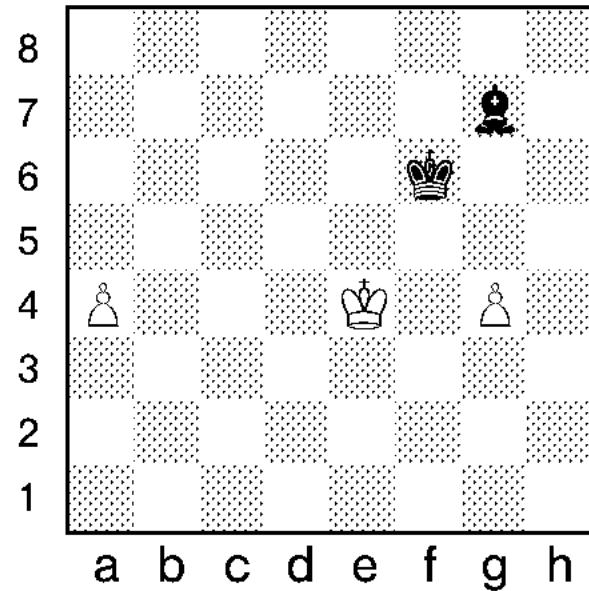
Kann Weiß am Zug noch gewinnen?
Begründe deine Antwort.



Weiß am Zug hält Remis.




Kann Schwarz am Zug remis halten?
Begründe deine Antwort.




Weiß am Zug gewinnt.

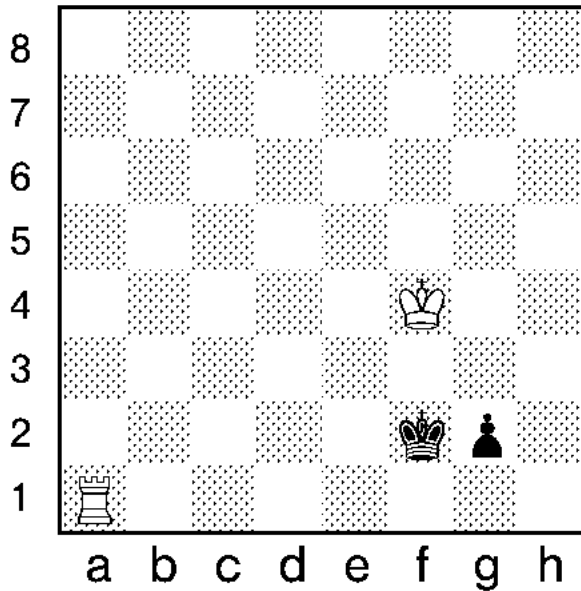
TURM GEGEN BAUER




Weiß ist am Zug.
Kann er gewinnen?



Weiß ist am Zug.
Kann er gewinnen?

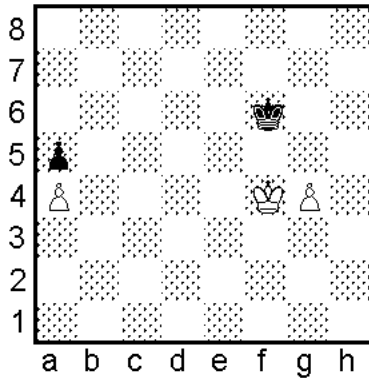


Weiß ist am Zug.
Kann er gewinnen?




Weiß am Zug gewinnt.

BÄHRSCHE REGEL



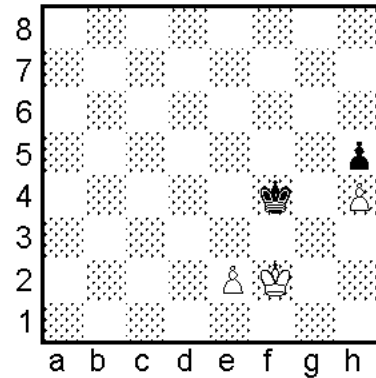
Weiß am Zug

- a) Weiß gewinnt
- b) Remis



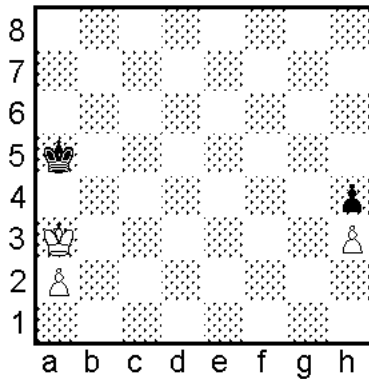
Weiß am Zug

- a) Weiß gewinnt
- b) Remis



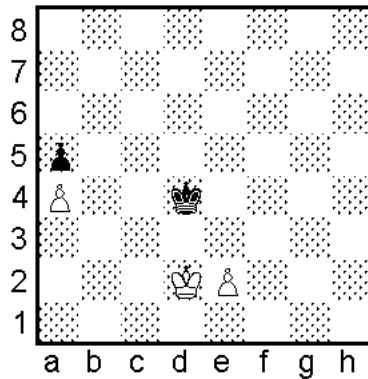
Weiß am Zug

- a) Weiß gewinnt
- b) Remis

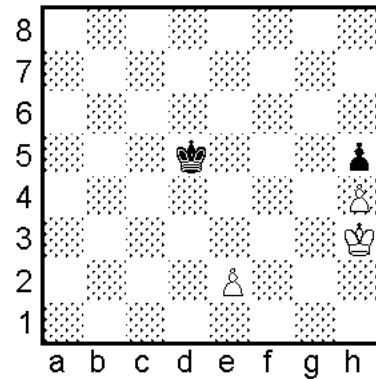


Weiß am Zug

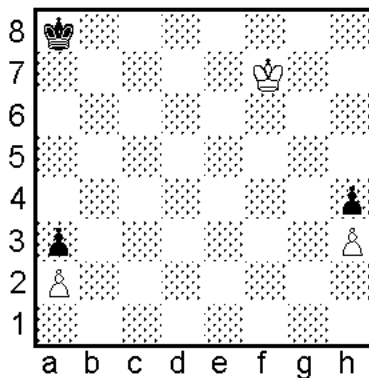
- a) Weiß gewinnt
- b) Remis



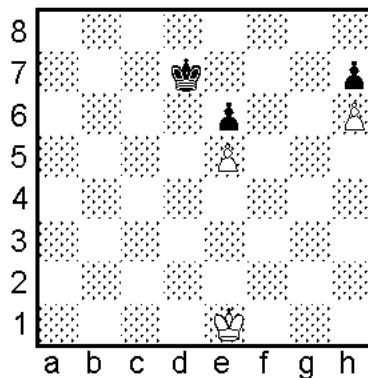
Weiß am Zug gewinnt.



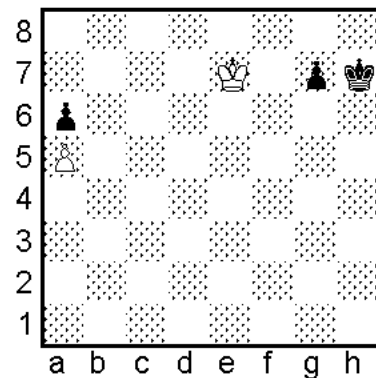
Weiß am Zug gewinnt.



Weiß am Zug gewinnt.

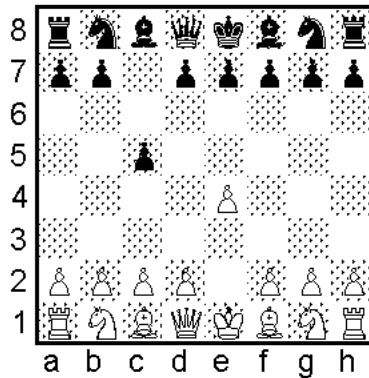


Weiß am Zug hält Remis.



Weiß am Zug hält Remis.


SIZILIANISCH



Die **Sizilianische Verteidigung** ist heutzutage vermutlich die beliebteste Erwiderung auf den Zug 1.e4. Sie geht zurück auf die italienischen Meister Polerio und Greco.

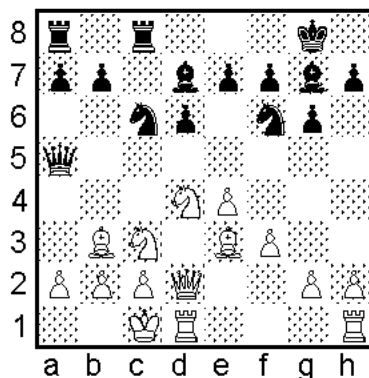
Die Grundidee ist mit dem Zug c5 das Zentrum anzugreifen und den c-Bauern gegen den weißen d-Bauern zu tauschen. Danach entsteht eine halboffene c-Linie, über die Schwarz angreifen kann und außerdem behält Schwarz einen Bauern mehr im Zentrum.

Nach den ersten Zügen kann die Sizilianische Verteidigung in sehr verschiedene Varianten übergehen:



Alapin

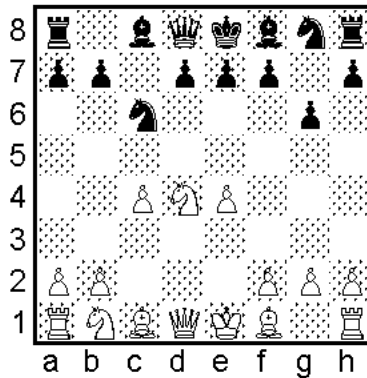
Weiß bereitet den Zug d4 mit 2.c3 vor, um den Bauern auf d4 mit einem Bauern ersetzen zu können. Danach hätte er Raumvorteil und Schwarz könnte die c-Linie auch nicht mehr allein nutzen. Eine logische Idee. Allerdings kann er den Bauern auf e4 nicht mehr mit dem Springer decken. Deshalb greift Schwarz meist den Bauern auf e4 sofort mit 2.... d5 oder 2.... Sf6 an.



Drachenvariante

Der Drachen ist wohl die berühmteste Sizilianischvariante, nicht nur wegen dem interessanten Namen. Auch die Partien verlaufen oft sehr dramatisch. Der Drachen zeichnet sich dadurch aus, dass Schwarz den Königsläufer fianchettiert.

Meist rochiert Weiß lang und Schwarz kurz. Danach greifen beide mit aller Kraft den gegnerischen König an und scheuen auch vor Opfern nicht zurück.

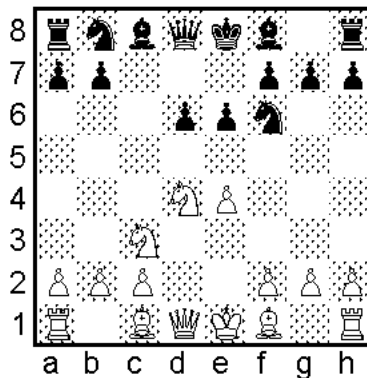


Maroczy-Aufbau

Wenn Weiß c4 spielt, engt er das schwarze Zentrum ein. Diesen Raumvorteil erkaufte er allerdings mit seinem Anzugsvorteil.


Auch lässt sich der Aufbau nicht immer verwirklichen z.B.: 1.e4 c5 2.Sf3 d6 3.d4 cxd4 4.Sxd4 Sf6

Wenn es soweit ist, dreht sich alles um die schwarzen Vorstöße b5 und d5. Wenn Weiß die verhindern kann, wird er in Vorteil kommen.



Kleines Zentrum

Wenn Schwarz nicht fianchettiert, wird er den schwarzfeldrigen Läufer nach e7 stellen. In diesen Varianten bildet er das sogenannte "kleine Zentrum" mit den Bauern d6 und e6. Der schwarze Plan besteht darin, wenn irgend möglich den typischen Vorstoß d5 zu verwirklichen, sowie am Damenflügel aktiv zu werden. Weiß wird versuchen seinen Raumvorteil im Zentrum auszunutzen z.B. mit dem Vorstoß e5 oder einen Angriff am Königsflügel aufziehen.



Schwarz spielt e5

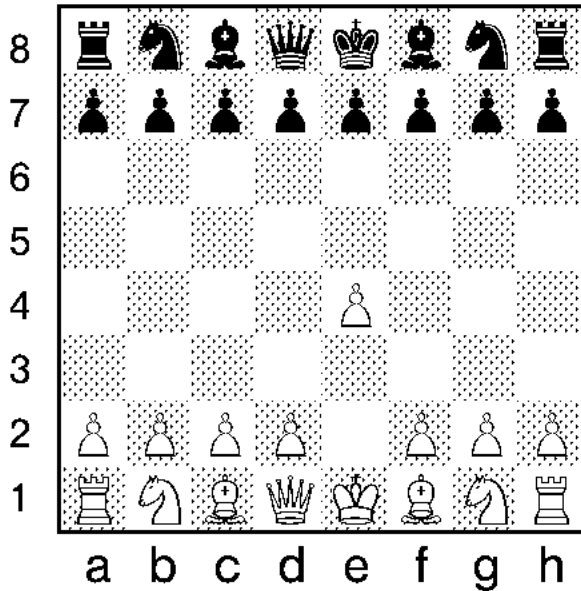
Durch den Zug e5 vermeidet Schwarz den üblichen Raumnachteil und kann sich schnell entwickeln. Der Nachteil besteht in dem rückständigen Bauern in der d-Linie und dem schwachen Feld d5.

Weiß wird also versuchen das Feld d5 unter Kontrolle zu behalten. Schwarz muß mit den Vorstößen b5, f5 oder ideal auch d5 zu Gegenspiel kommen.

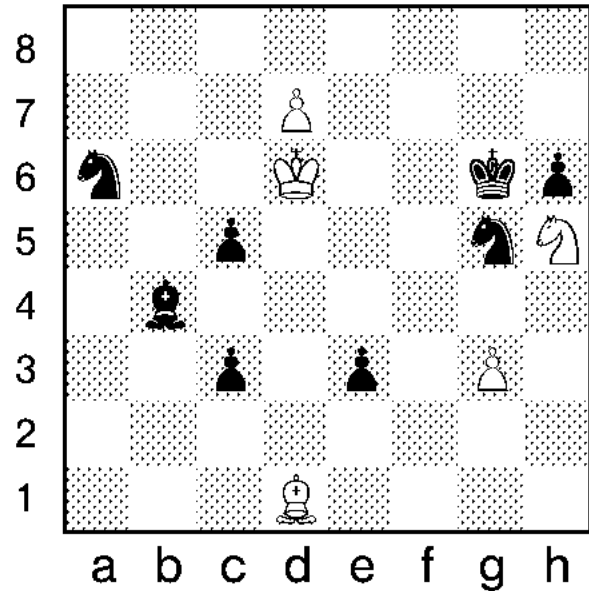
SCHMUNZELSCHACH



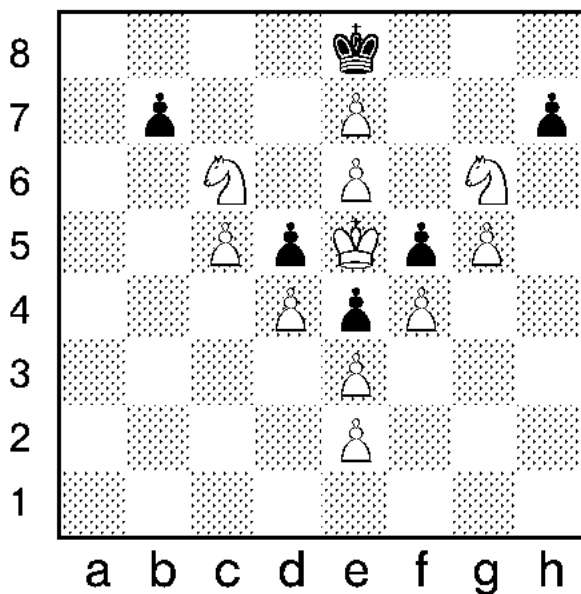
Die folgenden Knobelaufgaben sind nicht einfach. Löse sie in der Gruppe oder mit deinem Trainer. Für die Mühe wirst du mit sehr schönen Lösungen belohnt.



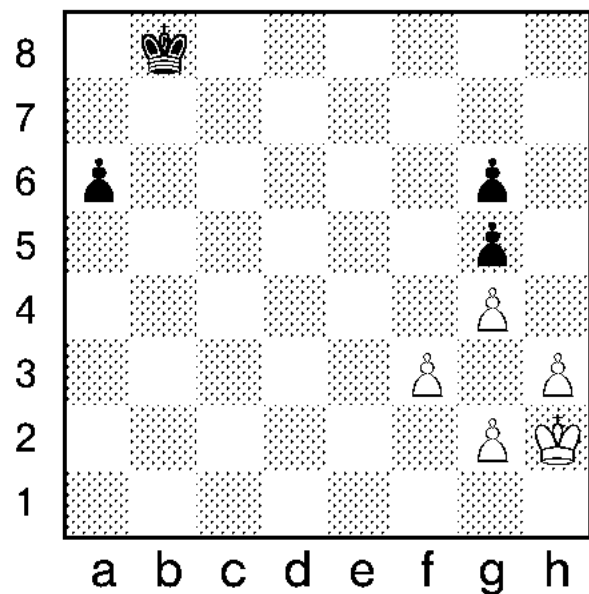
Weiß beginnt mit 1.e4. Die Partie endet im fünften Zug mit SxT#. Wie war der Partieverlauf?



Weiß am Zug gewinnt. Da hilft auch die schwarze Reiterei nicht.

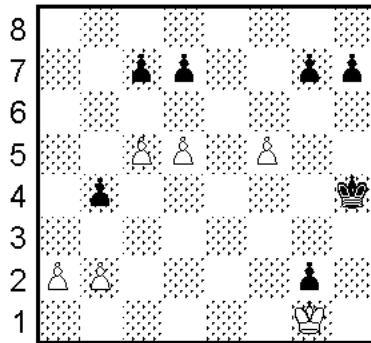


Weiß setzt in zwei Zügen matt. Es gibt nur eine Lösung!




Weiß am Zug hält remis.


45 STUDIEN



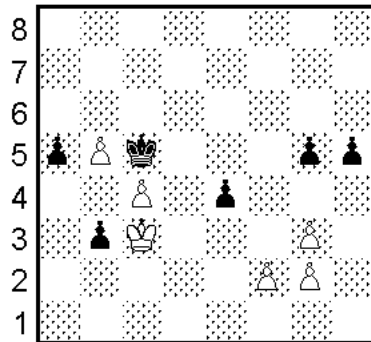
a b c d e f g h
1) Weiß am Zug



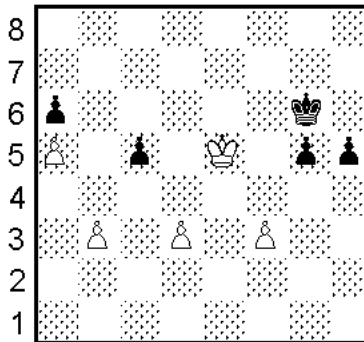
a b c d e f g h
2) Schwarz am Zug



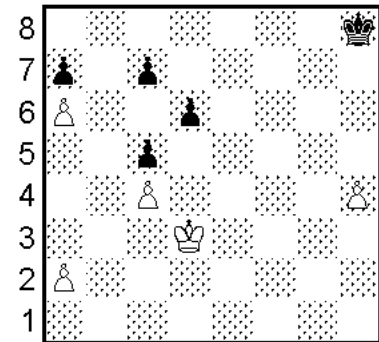
a b c d e f g h
3) Schwarz am Zug



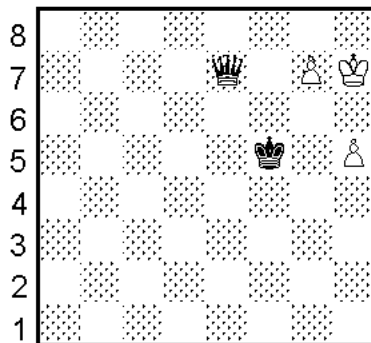
a b c d e f g h
4) Schwarz am Zug




a b c d e f g h
5) Weiß am Zug




a b c d e f g h
6) Weiß am Zug



a b c d e f g h
7) Weiß am Zug

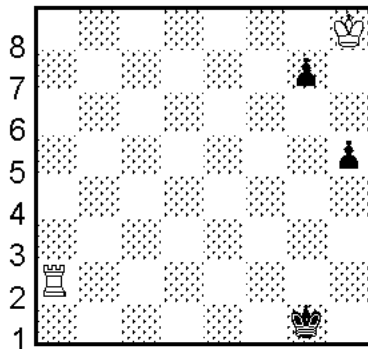


a b c d e f g h
8) Weiß am Zug

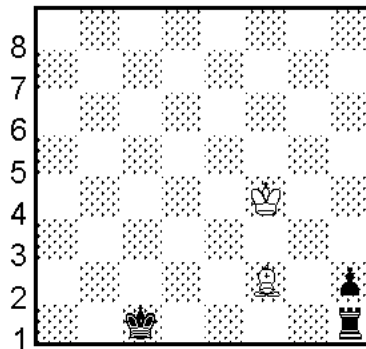


a b c d e f g h
9) Weiß am Zug

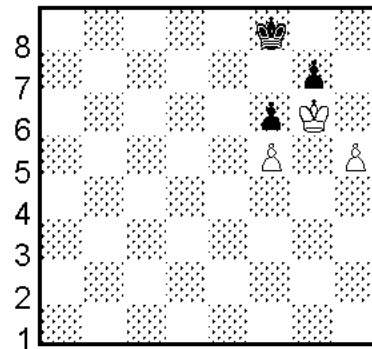
45 STUDIEN



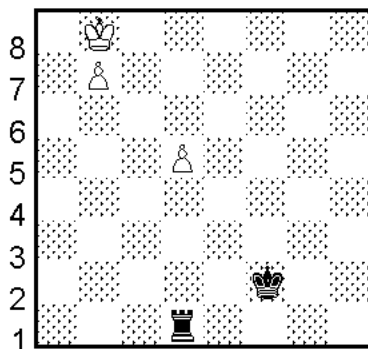
a b c d e f g h
10) Weiß am Zug



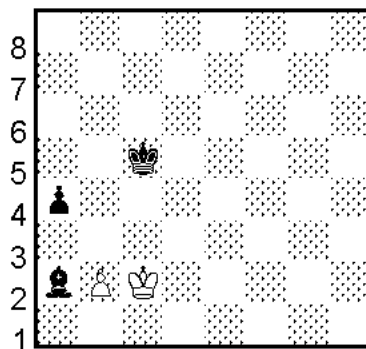
a b c d e f g h
11) Weiß am Zug



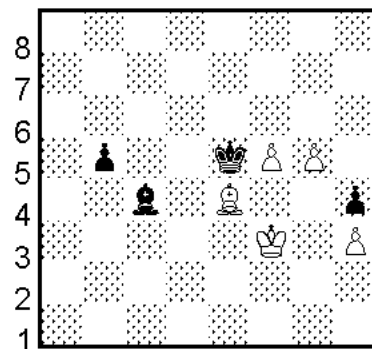
a b c d e f g h
12) Weiß am Zug



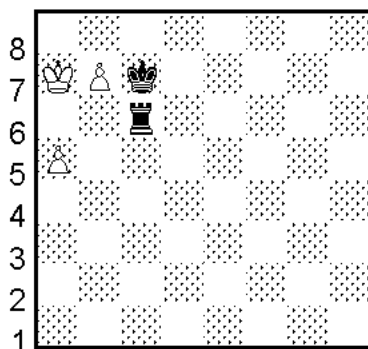
a b c d e f g h
13) Weiß am Zug



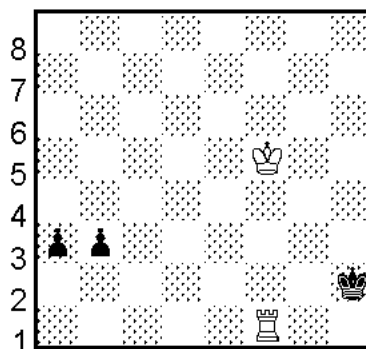
a b c d e f g h
14) Weiß am Zug



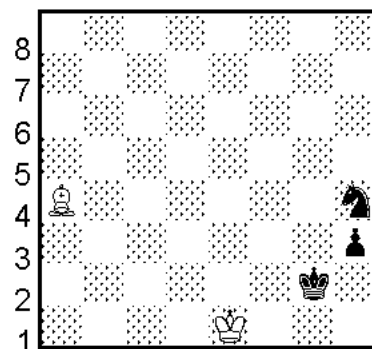
a b c d e f g h
15) Schwarz am Zug



a b c d e f g h
16) Schwarz am Zug

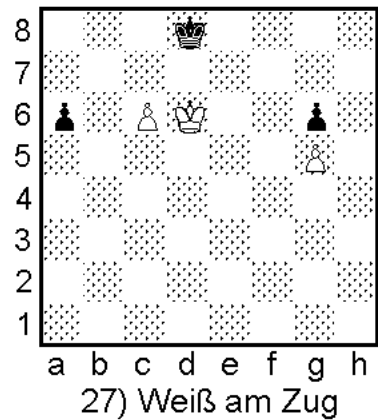





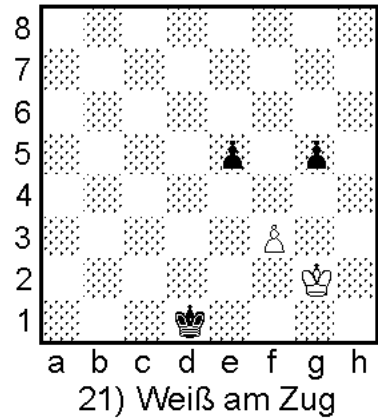




a b c d e f g h
17) Weiß am Zug


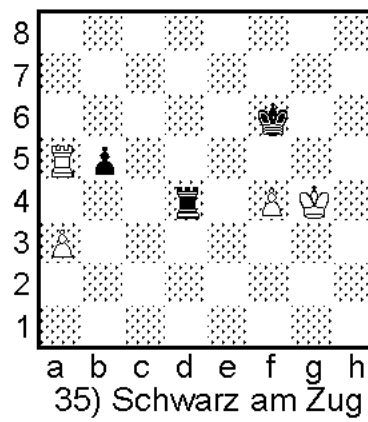




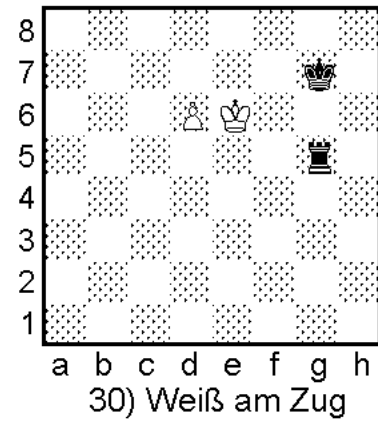




a b c d e f g h
18) Weiß am Zug









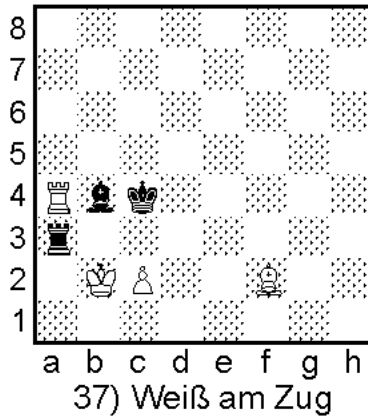
45 STUDIEN






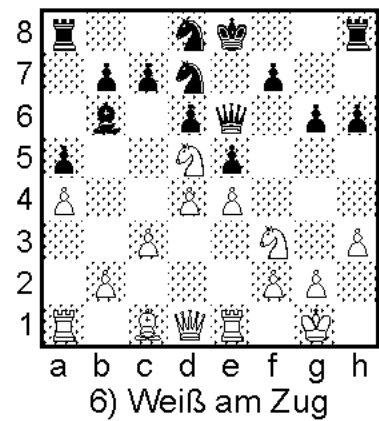


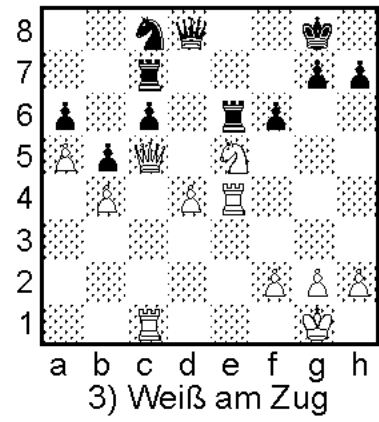


45 STUDIEN



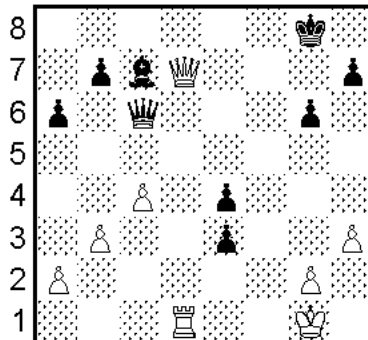
45 STUDIEN



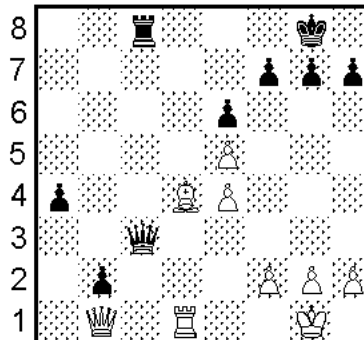
45 x TAKTIK



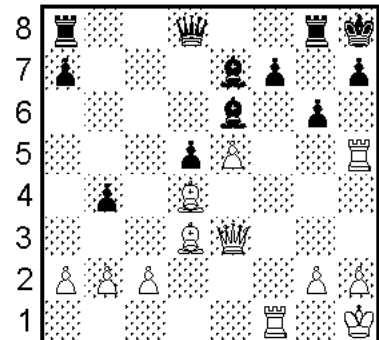
45 x TAKTIK



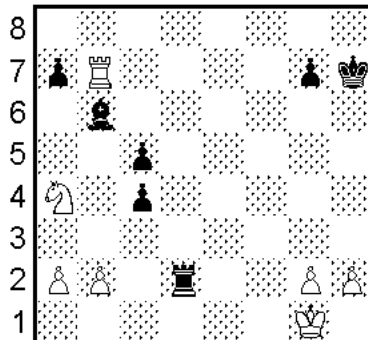
10) Schwarz am Zug



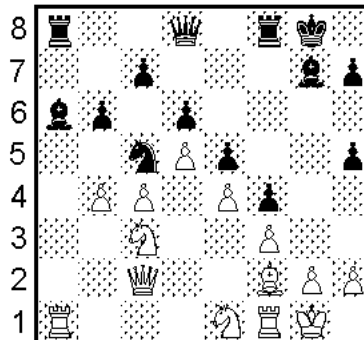
11) Schwarz am Zug




12) Weiß am Zug




13) Schwarz am Zug




14) Schwarz am Zug




15) Schwarz am Zug



16) Schwarz am Zug

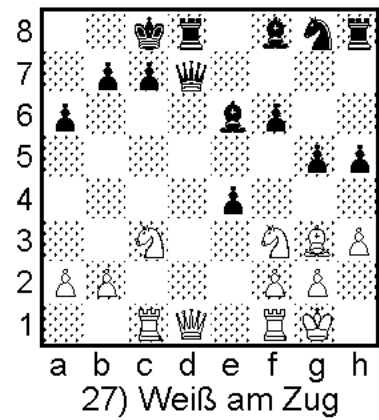


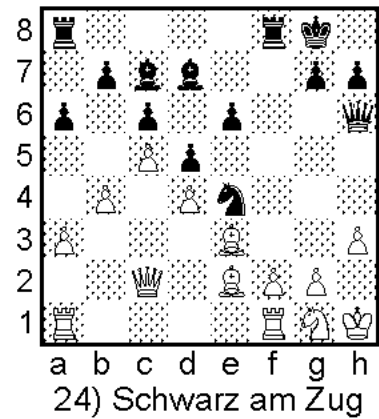


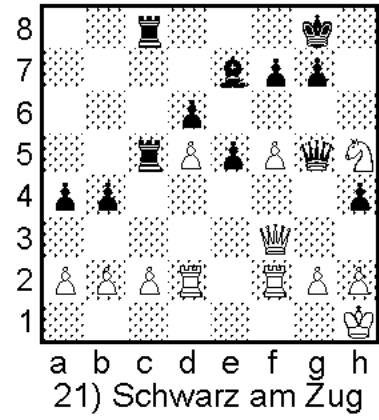

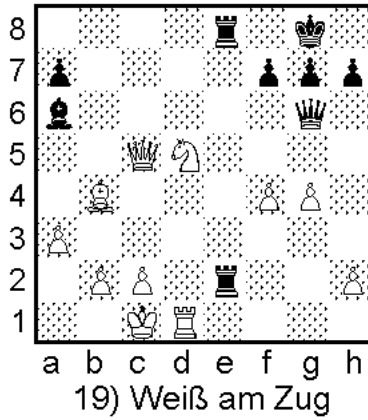


17) Schwarz am Zug


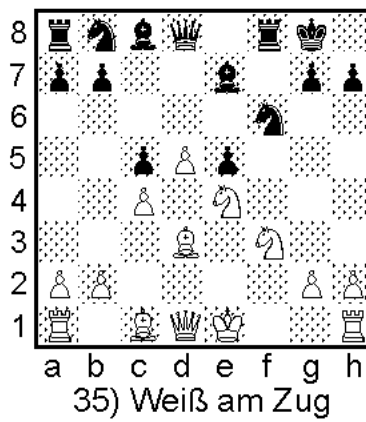



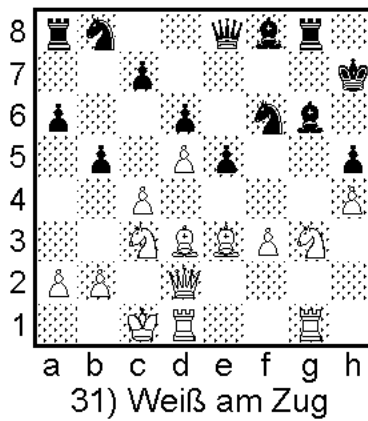





18) Weiß am Zug

45 x TAKTIK



45 x TAKTIK



45 x TAKTIK

